

Wandercache Hirsau - durch ein romantisches Tal hin zu riesigen Bäumen, einer verwunschen Höhle und zu imposanten Ruinen

Länge: ca. 10 km

Dauer: ca. 4,5 Stunden

Acht Rätselstationen und acht Leitpunkte

Hallo liebe Geocacher!

Habt Ihr Euch mit dem GPS Gerät vertraut gemacht?

Dann kann es ja mit der Schatzsuche losgehen!

In diesem Rätselkatalog bekommt Ihr zwei Arten von Koordinaten:

1. So genannte „Leitpunkte“. Diese Koordinaten sind vollständig vorgegeben und dazu da, Euch auf dem einfachsten Weg zu den eigentlichen Stationen Eurer GPS Schnitzeljagd zu leiten. An einem Leitpunkt gibt es also keine Aufgaben und Rätsel zu lösen, Ihr könnt diese Angaben nutzen um ohne Umweg zur nächsten Station zu gelangen.
2. Die Koordinaten der Stationen Eurer GPS Schnitzeljagd. Diese sind in Rätseln verschlüsselt. Die Rätsel könnt Ihr dann an Hand von Informationen vor Ort- an den jeweiligen Stationen Eurer GPS Schnitzeljagd lösen

		X	Y
1.Station	N48° 44.257 E8° 43.781	-	-
2.Station	N48° 44.2X2 E8° 42.8Y9		
LP1	N48° 44.291 E8° 42.667	-	-
3.Station	N48° 44.3X6 E8° 42.1Y2		
LP2	N48° 44.330 E8° 41.536	-	-
LP3	N48° 44.406 E8° 41.624	-	-
4.Station	N48° 44.7X2 E8° 42.1Y9		
5.Station	N48° 44.8X5 E8° 42.6Y7		
LP4	N48° 45.021 E8° 43.008	-	-
LP5	N48° 44.918 E8° 43.206	-	-
LP6	N48° 44.930 E8° 43.251	-	-
LP7	N48° 44.879 E8° 43.355	-	-
LP8	N48° 44.870 E8° 43.526	-	-
6.Station	N48° 44.8X5 E8° 43.6Y6		
7.Station	N48° 44.2X1 E8° 43.9Y8		
8.Station	N48° 44.1X2 E8° 44.1Y2		



Hinweis: Während der Rätselrunde solltet Ihr zusätzlich einige Bonuszahlen notieren, die zum Schluss gebraucht werden!

Unser Rundgang beginnt am Parkplatz vor dem Wildgehege in Hirsau.

Parkplatzkoordinaten: N48° 44.261 E8° 43.822

Zunächst folgen wir dem Wegweiser zum Wildgehege um an der

Startkoordinate N48° 44.257 E8° 43.781

einen interessanten Steckbrief der hier lebenden Insassen zu entdecken. Ihnen gilt unser erstes Rätsel:

Welche Größe A in cm kann die Losung der Bewohner haben? A=_____

Rätsel:

Wie alt B= _____ kann das Rotwild in freier Wildbahn in etwa werden?


Jetzt ist erst einmal eine kleine Rechnung zu bewältigen:

$$X = A + 2 = \underline{\hspace{2cm}}$$

$$Y = B - 10 = \underline{\hspace{2cm}}$$

Die Ziffern X und Y setzen wir in die fehlenden Stellen der nächsten Koordinate ein:

N48° 44.2X2 E8° 42.8Y9 **N48° 44.2□2 E8° 42.8□9**





2. Rätselstation

Hier findet Ihr Wanderschilder, die Euch sagen in welchem Tal ihr seid und wie hoch ihr Euch über dem Meeresspiegel befindet.

Die Höhe beträgt laut Schild: A B C m = ___ ___ ___ m

Notiert Euch die Ziffern B=_____ und C=_____, da sie Euch zum nächsten Rätsel führen werden.

Notiert Euch A als die Bonuszahl 1	
------------------------------------	--

Doch zuerst geben wir Euch diesen Leitpunkt an, eine Brücke, die ihr auf dem Weg zur nächsten Rätselstation passieren müsst. Die Leitpunkte sind im Menü Wegpunkte unter I-L abgespeichert. Einfach den entsprechenden Leitpunkt mit den Pfeilen auswählen, dann o.k. drücken und nochmals o.k. drücken (GOTO). Schon kann` s weiter gehen.

LP1 Brücke N48° 44.291 E8° 42.667

Bravo, die Brücke wäre gemeistert.


Jetzt kommen wir wieder mit Hilfe einer kleinen Umrechnung zu den Koordinaten der nächsten Rätselstation:

X=B-C = _____

Y= C = _____

N48° 44.3X6 E8° 42.1Y2

N48° 44.3□6 E8° 42.1□2



3. Rätselstation

Ganz hier in der Nähe könnt Ihr rasten und Schutz vor Wind und Wetter finden.

Seht Ihr unten am Bach den orangefarbenen Wegweiser mit der
Entfernungsangabe 3,3 km?



Wie heißt der Ort, zu dem er weist? _____

Wie oft kommt auf dem Schild der Buchstabe „b“ vor X=_____

An welcher Position im Wort findet Ihr den Buchstaben „i“? Y=_____

Wenn Ihr die Lösung notiert habt, dann könnt Ihr dem orangenen Schild folgen. Der Bach ist nun links von Euch. Eine wildromantische Wegstrecke erwartet Euch.

Die Koordinaten des vierten Rätselpunktes sind:

N48° 44.7X2 E8° 42.1Y9 **N48° 44.7□2 E8° 42.1□9**

ACHTUNG: Gebt diese Koordinate erst ein, nachdem Ihr die beiden Leitpunkte LP2 und LP3 passiert habt

Wir geben Euch auf dem Weg zum Rätselpunkt 4 zur besseren Orientierung zwei Leitpunkte an:

LP2 N48° 44.330 E8° 41.536

Ihr seid nun eine ganze Weile durch einen dunklen und dicht stehenden Fichtenwald gegangen. Hier kann es sein, dass der GPS-Empfang sehr schlecht wird oder ganz aussetzt. Damit Ihr den schmalen Pfad, der Euch vom LP2 steil rechts **hoch zur B 296** führt nicht verfehlt, haben wir Euch zur Orientierung noch zwei Bilder eingefügt:

Der Pfad beginnt in der Nähe dieser kleinen Steinmauer	Dieser Pfad führt Euch zur B296

Seid Ihr an den Leitplanken der Bundesstraße gut angekommen?

Vorsicht Autoverkehr!

Geht nun für **30 m entlang der B296 nach rechts**. In der Kurve findet Ihr auf der anderen Straßenseite zwischen den vier Kurvenschildern **einen schmalen Pfad**. Folgt diesem Pfad bergauf und Ihr trefft bei:

LP3 N48° 44.406 E8° 41.624

eine Wegmarkierung, die nach Oberkollbach zeigt. Hier folgt Ihr dem Pfeil nach links.



Jetzt ist der Zeitpunkt gekommen die vorhin bei der 3. Rätselstation ermittelten GPS Daten einzugeben und anzusteuern.

Wenig später **überquert** Ihr die K4322 und folgt gegenüber jetzt dem **breiten Forstweg**, der Euch in einer weiten Kurve zum nächsten Räseelpunkt bringt. Weicht nicht von dem breiten Forstweg ab, folgt **NICHT** dem Pfad mit der blauen Raute. Etwa 200 m vor dem Räseelpunkt trefft Ihr auf eine Asphaltstraße, der Ihr nach rechts folgt.

4. Räselstation

Das war eine lange Strecke, hoffentlich hat es Euch gefallen, und Ihr findet hier einige Wanderschilder an.


Räsel: X = Entfernung (Calw) X=_____

Y= Entfernung (Zainen + Bruderhöhle) Y=_____

N48° 44.8X5 E8° 42.6Y7 **N48° 44.8□5 E8° 42.6□7**

Notiert Euch Entfernung (Ziegeläcker) als die Bonuszahl 2	
--	--

Folgt nun etwa 300 m der Straße, dann geht links ein Forstweg ab zum nächsten Räsel.



5. Rätselstation

Ein Ort mit einem merkwürdigen Namen empfängt Euch. Mich erinnert er an einen englischen Admiral. Einige Riesencreaturen sind hier zu bewundern, und sie sind auch der Anlass für die nächsten Rätselfragen. Die Antwort findet Ihr in der Nähe der Schutzhütte:

Wann waren diese Riesen erstmals in Württemberg? Jahreszahl: A B C D=

X= B-C=

Wann wurden sie entdeckt?

Y =Letzte Ziffer der Jahreszahl =

Der Weg zum nächsten Räseelpunkt führt uns entlang bisher wenig begangener Pfade. Daher geben wir fünf Leitpunkte an:

LP4 N48° 45.021 E8° 43.008

rechts geht ein teilweise
zugewachsener Weg ab

LP5 N48° 44.918 E8° 43.206

Hier geht es links ab

LP6 N48° 44.930 E8° 43.251

Hier geht es rechts ab

LP7 N48° 44.879 E8° 43.355

Wir treffen auf einen breiten Forstweg,
dem wir geradeaus folgen


LP8 N48° 44.870 E8° 43.526

den Weg links bergab wählen

Und nun zum nächsten Räseelpunkt

N48° 44.8X5 E8° 43.6Y6

N48° 44.8□5 E8° 43.6□6



6. Rätselstation

Ihr kommt an ein Holzgeländer. 20 m rechts nahe einer Bank führt ein Pfad nach unten
Sicher habt Ihr schon an Hand der Wegweiser erraten können, dass hier unser nächstes Rätsel wartet:

Am Ende der Steinstufen könnt Ihr oben am Höhleneingang sehen, wann Moritz sich hier verewigt hat!

Die ersten beiden Ziffern, also der Tag des Monats sind A B = ___ ___

$$X = A - B \qquad X = \underline{\hspace{2cm}}$$

$$Y = B \qquad Y = \underline{\hspace{2cm}}$$

Notiert Euch die Monatszahl als die Bonuszahl 3	
--	--

Wer Lust hat kann hier weiter unten noch weitere interessante Höhlen und Felsformationen erkunden

Danach geht es aber weiter zum nächsten Räseipunkt:

N48° 44.2X1 E8° 43.9Y8 **N48° 44.2□1 E8° 43.9□8**

Es empfiehlt sich nun zurück nach oben zur Bank bei dem Geländer zu gehen und dann dem Weg mit der gelben Raute zu folgen

7. Rätselstation

Hat das GPS Euch auf dem Pfad mit der gelben Raute wieder zurück in die Zivilisation geführt?

Wir sind hier an einem geschichtsträchtigen Ort angelangt, an dem schon seit vielen hundert Jahren spirituell, kulturell und praktisch gearbeitet wurde. Stark geprägt wurde er von der burgundischen Abtei Cluny

Findet hier heraus, welche Nutzungsnummer das Backhaus hat. A B = ___ ___


$$X = A - B = \underline{\hspace{2cm}}$$

Findet hier heraus, welche Nutzungsnummer die Kuferei hat.

$$Y = \text{erste Ziffer Kuferei} = \underline{\hspace{2cm}}$$

Auf geht es zur letzten Rätselstation:

N48° 44.1X2 E8° 44.1Y7 **N48° 44.1□2 E8° 44.1□7**



Auf dem Weg zu unserer letzten Station kommt Ihr an dem Hotel Kloster Hirsau vorbei.

Hier könnt ihr euch nach der letzten Station mit dem Schlussrätsel stärken und entspannen. Ein Biergarten unter einer großen Eiche lädt zum Verweilen ein. Auch Hermann Hesse war hier ein gern gesehener Gast.

Öffnungszeiten: Mo bis So 7-23 Uhr, warme Küche von 12-14 Uhr sowie von 18-22 Uhr, Kein Ruhetag!



Schlussrätsel

Wieder sind wir an einem Ort der schon vor über 1200 Jahren für die Menschen von Bedeutung war

Hier finden wir zum Schluss unserer Tour neben einem Brunnen einen alten Sandstein mit Wappen

Wie lautet die Jahreszahl unter dem Wappen mit den Reben?



Notiert Euch die dritte Ziffer der Jahreszahl als die Bonuszahl 4	
--	--

Addiert nun alle vier unterwegs gefundenen Bonuszahlen zusammen.

Bonuszahl 1	
Bonuszahl 2	
Bonuszahl 3	
Bonuszahl 4	
Ergebnis	

Prima, nun habt Ihr alle Rätsel gelöst!!!

Wir hoffen der Cache hat Euch Spaß gemacht und Ihr habt viel über Calw, die Geschichte im Wald und die Umgebung erfahren.

Zwei weitere Caches warten zum Download auf calw.de auf Euch:

1. Von wilden Gesellen, Geistern und Wundern der Natur - eine „Sagen“hafte GPS-Schnitzeljagd zwischen Calw und Bad Teinach-Zavelstein; 6 km Streckentour
2. Der Stadtcache - Interessantes und Kurioses aus der Calwer Stadtgeschichte, 3,5 km Rundtour